



**PRUEBAS LIBRES PARA LA OBTENCIÓN DIRECTA DEL TÍTULO DE GRADUADO EN
EDUCACIÓN SECUNDARIA OBLIGATORIA
(Convocatoria septiembre 2014)**

APELLIDOS _____

NOMBRE _____ DNI/NIE/Pasaporte _____

FIRMA

CALIFICACIÓN GLOBAL (A rellenar por el tribunal)	A	B	Puntuación total (A + B)

A: Consignar la puntuación obtenida en esta prueba.

B: Consignar, si procede, 1 punto por haber superado el ámbito Social en un programa de preparación de pruebas libres para la obtención del título de graduado en ESO en un centro público de educación de personas adultas de Castilla y León.

ÁMBITO SOCIAL

CRITERIOS DE CALIFICACIÓN:

1. La suma total de la puntuación de esta prueba es de 10 puntos. En el enunciado de cada pregunta se expresa su puntuación total. Si cada pregunta consta de varios ítems, la puntuación de cada uno figura al lado.
2. Se valorará la presentación, la corrección ortográfica y la calidad de la redacción; se dará importancia a la claridad y coherencia en la exposición y a la precisión de los conceptos empleados en las explicaciones.

INSTRUCCIONES PARA LA REALIZACIÓN DE LA PRUEBA

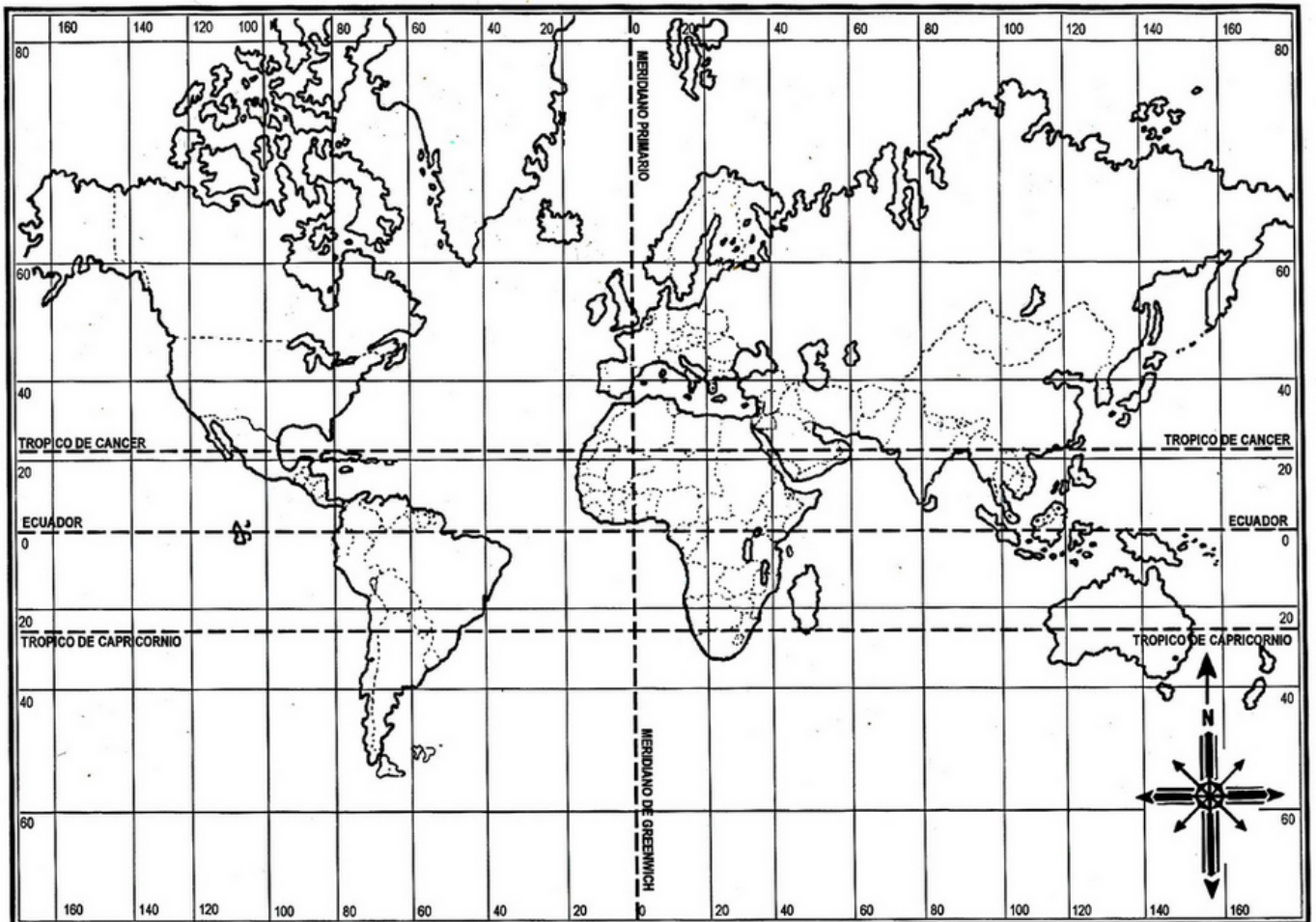
Durante la realización de la prueba, tenga sobre la mesa su DNI/NIE o Pasaporte.

Sólo se admiten pruebas escritas con **bolígrafo** azul o negro.

1) Localice en el mapa usando los números asignados a cada término:

Valoración total: 1 punto (0,10 por término)

- | | |
|-----------------------------|----------------------------|
| 1. Cordillera de los Andes. | 6. Península de Indochina. |
| 2. Océano Índico. | 7. Isla de Nueva Guinea. |
| 3. Antártida. | 8. Montes Urales. |
| 4. Desierto del Sáhara. | 9. Mar Báltico. |
| 5. Golfo de México. | 10. Noruega. |



Fuente: <http://www.mapaplanisferio.com/197/mapas-planisferios-mapa-de-meridianos-y-paralelos.html>

2) Conteste las siguientes cuestiones relacionadas con el petróleo como fuente de energía.

Valoración total: 1 punto

a) ¿Qué es la OPEP?

(0,25 puntos)

b) Cite cinco países productores de petróleo.

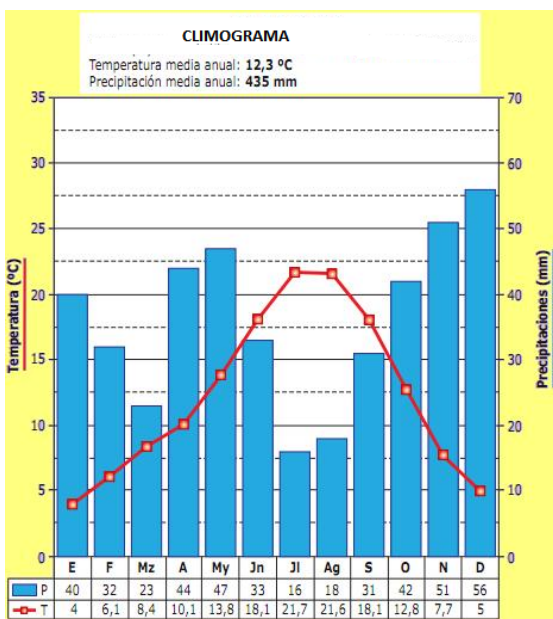
(0,25 puntos)

c) ¿En España hay petróleo? En caso de respuesta afirmativa diga ¿dónde se extrae y dónde hay bolsas del mismo? (0,25 puntos)

d) ¿Cuándo se produjo la mayor crisis del petróleo? (0,25 puntos)

3) Comente el siguiente diagrama.

Valoración total: 1 punto



a) Señale las características más importantes del clima que representa. (0,50 puntos)

b) ¿Con qué paisaje agrario y natural lo relacionaría? (0,50 puntos)

4) Indique a qué corresponden las siguientes siglas: **Valoración total: 0,40 puntos**

- ONU:
- UE:
- OTAN:
- PAC:

5) Conteste a las preguntas referidas a los siguientes artículos de la Constitución española. **Valoración total: 1,25 puntos**

Artículo 1.

Estado social y democrático de Derecho. Valores superiores. Soberanía popular. Monarquía parlamentaria.	<ol style="list-style-type: none">1. España se constituye en un Estado social y democrático de Derecho, que propugna como valores superiores de su ordenamiento jurídico de libertad, la justicia, la igualdad y el pluralismo político.2. La soberanía nacional reside en el pueblo español, del que emanan los poderes del Estado.3. La forma política del Estado español es la Monarquía parlamentaria.
--	--

a) ¿Qué significa que la soberanía reside en el pueblo español? (0,25 puntos)

b) Además de la monarquía ¿qué otra forma de organización del Estado conoce? (0,25 puntos)

Artículo 66.

Cortes Generales: potestad legislativa y control del Gobierno	<ol style="list-style-type: none">1. Las Cortes Generales representan al pueblo español y están formadas por el Congreso de los Diputados y el Senado.2. Las Cortes Generales ejercen la potestad legislativa del Estado, aprueban sus Presupuestos, controlan la acción del Gobierno y tienen las demás competencias que les atribuya la Constitución.3. Las Cortes Generales son inviolables.
--	---

c) ¿Qué son las Cortes Generales? ¿Qué poder tienen? (0,25 puntos)

d) Las Cortes están formadas por dos Cámaras: ¿cómo se llaman? (0,25 puntos)

e) ¿Quién elige a los diputados y a los senadores? (0,25 puntos)

6) Defina y conteste las siguientes cuestiones: Valoración total: 0,75 puntos

a) ¿Qué es la división de poderes? (0,25 puntos)

b) ¿En qué filósofo se sustenta? (0,25 puntos)

c) Sitúelo en una época. (0,25 puntos)

7) Ordene cronológicamente los siguientes acontecimientos colocando las letras (A-E) en los recuadros situados en el eje del tiempo:

Valoración total: 1 punto (0,20 puntos cada cuestión)

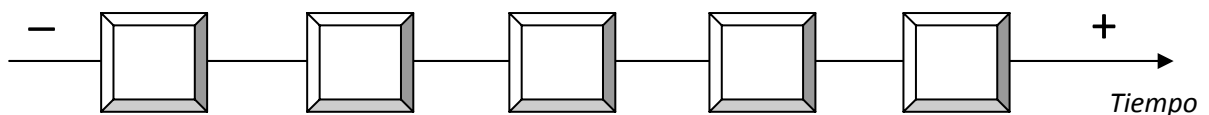
A. Guerra de las comunidades castellanas.

B. Unión de los reinos de Castilla y de León.

C. Califato de Córdoba.

D. Fin del imperio colonial español.

E. Cortes de Cádiz.



8) Relacione los términos que aparecen en la columna de la izquierda con los conceptos que se encuentran en la columna de la derecha.

Valoración total: 1 punto (0,10 cada respuesta)

1. Renacimiento	a. La economía se rige por la ley oferta y la demanda
2. Impresionismo	b. Lucha de la iglesia Católica frente a los Protestantes
3. Imperio romano	c. Sistema político antidemocrático, anticomunista, antiliberal y ultra nacional
4. Feudalismo	d. Vuelta a la antigüedad clásica
5. Antiguo Régimen	e. Devolver a un Estado sus monarcas legítimos
6. Restauración	f. Movimiento pictórico del S. XIX
7. Liberalismo económico	g. Conjunto de libertades y garantías que posee cualquier persona desde el momento de su nacimiento.
8. Derechos humanos	h. Unificación política, lingüística, económica del Mediterráneo
9. Contrarreforma	i. Sistema político, social y económico anterior a la Revolución Francesa
10. Fascismo	j. Sistema de dependencia político, económico y social durante la Edad Media

1	2	3	4	5	6	7	8	9	10

9) Observe las siguientes imágenes y conteste a las cuestiones que se plantean:

Valoración total: 1,10 puntos



a) Clasifique los instrumentos de las imágenes por familias: (0,70 puntos)

AERÓFONOS	CORDÓFONOS	MEMBRANÓFONOS	ELECTRÓFONOS

b) Clasifique las siguientes voces de grave a agudo: tenor, mezzosoprano, bajo y soprano. (0,40 puntos)

10) Una cada término con la definición correspondiente:

Valoración total: 0,50 puntos (0,10 cada respuesta)

1. Óleo	a. Técnica artística que utiliza aglutinantes acuosos
2. Grabado	b. Técnica pictórica que utiliza el aceite de linaza como aglutinante
3. Fresco	c. Técnica propia de la pintura mural
4. Collage	d. Técnica artística, consistente en el pegado de diversos fragmentos de materiales sobre una superficie
5. Acuarela	e. Procedimiento por el que se consigue un dibujo realizado sobre una plancha de madera o metal mediante incisiones

11) Defina los siguientes conceptos.

Valoración total: 1 punto

- **Juicios de Nuremberg:** (0,25 puntos)

- **ONG:** (0,25 puntos)

- **Burguesía:** (0,25 puntos)

- **Islam:** (0,25 puntos)