


parque regional
Picos de Europa
en Castilla y León
(León)



2º y 3º Ciclo
de Educación
Primaria

red de
Espacios
Naturales
de Castilla y León



Junta de
Castilla y León

Programa de visitas escolares a Espacios Naturales

Casa del Parque de Picos de Europa (sector occidental) “El Torreón de Puebla de Lillo”


GUÍA DEL EXPLORADOR



¡Hola amigo!

¡Bienvenido al **Torreón de Puebla de Lillo!** Estás en una de las Casas del Parque Regional de Picos de Europa, en la provincia de León. Te invitamos a recorrer el Parque a través de nuestra exposición.

¿Estás preparado?



En la Casa del Parque vas a conocer las principales razones que hacen que este lugar sea tan especial. ¿Cuáles crees tú que son estas razones? Anótalas.

.....

.....

.....

.....

.....

.....



Seguramente, el lugar donde tú vives es diferente a este. Escribe algunas de las diferencias y semejanzas que destacarías.

Diferencias:

.....


.....

Semejanzas:

.....

.....





Para conocer bien este Parque vamos a descubrir las dos zonas que lo forman: el valle y la montaña.

¿Qué agente erosivo ha modelado este valle?

- a) río b) glaciar c) viento

¿Cuál es la letra que más se parece a la forma de este valle?

- a) V b) U

¿Cuáles son los bosques típicos del valle?

- a) pinares b) bosques de hoja caduca

¿Qué forma tienen las montañas?

- a) redondeadas b) escarpadas

¿Qué rocas forman estas montañas?

- a) calizas y pizarras b) granitos y gneises

03 

El valle y la montaña son dos zonas muy diferentes entre sí, aunque se encuentran próximas. Fíjate en el dibujo y contesta a las preguntas rodeando la respuesta correcta.



En el Parque destaca la riqueza de sus bosques. Cerca de esta Casa podemos encontrar el Pinar de Lillo y el Bosque de


Pardomino. Ambos son bosques muy bien conservados que presentan muchas diferencias entre sí.

04

El Pinar de Lillo es un pinar de pino silvestre de gran interés ecológico. En él vive una gran diversidad de fauna que, aunque es difícil de ver, delata su presencia mediante sus huellas y otras señales. Une mediante una flecha cada huella con el animal al que pertenece.




CIERVO



CORZO

UROGALLO



JABALÍ



05

El Bosque de Pardomino está formado por un gran número de especies arbóreas, como robles, hayas, fresnos y acebos. Lee las siguientes frases y señala si son verdaderas o falsas.

La mayoría de los árboles del **Bosque de Pardomino** son especies de hoja caduca.

V F

En otoño las hojas de los árboles de este bosque adquieren tonalidades que van del amarillo al rojo.

V F

En primavera maduran los frutos de los árboles de este bosque.

V F





¿Dónde viven los rebecos?

- a) en los ríos
- c) en roquedos altos
- d) en los pueblos

¿De qué se alimentan?


- a) de hierba
- b) de roedores
- d) de carroña

¿Cuántas crías pare la hembra del rebeco?

- a) cinco
- b) diez
- c) una, rara vez dos o tres

06 

Fijate en esta familia de rebecos. Este mamífero es uno de los animales más representativos del Parque Regional de Picos de Europa. Lee las preguntas y elige la respuesta correcta.



07 

Observa las siguientes cornamentas y rodea la que corresponda al rebeco.



Desde muy antiguo los pobladores del Parque Regional de Picos de Europa han utilizado los recursos naturales del valle y de la montaña para alimentarse, dar de comer a su ganado, hacer sus

casas, calentarse, etc. Este aprovechamiento del medio, que se realiza desde hace siglos, ha dado lugar al paisaje que podemos contemplar desde lo más alto de la Casa del Parque.



Observa el paisaje que ves desde lo alto del Torreón y encuentra tres elementos sin vida (inertes), tres elementos con vida (seres vivos) y tres elementos introducidos por el ser humano.

Elementos inertes del paisaje:

- 1
- 2
- 3

Seres vivos del paisaje:

- 1
- 2
- 3

Elementos introducidos por el ser humano:

- 1
- 2
- 3



Los pueblos son elementos importantes en los paisajes rurales. Fijate en las casas del pueblo situado a los pies del Torreón y responde a la siguiente pregunta.





¿Qué diferencias observas entre los materiales con los que están construidas las casas del pueblo y el torreón?

-
-
-
-
-
-



Todos los pueblos tienen su propia historia y sus tradiciones populares. Dependiendo de la forma de vida y de los recursos naturales del lugar donde se

asientan, se han fabricado objetos muy curiosos y muy útiles. En la actualidad, poco a poco se van sustituyendo por aparatos más modernos.

	Nombre	Utilidad	Material
	Madreñas	Cocinar	
	Trébede	Calzado	Metal
	Emina	Triturar o moler	Madera
	Almirez	Instrumento de medida	

10 

Fijate en estos cuatro objetos fabricados por las personas que han habitado en el Parque. Une mediante flechas cada objeto con su nombre, su utilidad y el material con el que está construido.



11 

Ahora ya sabes lo importante que es conservar este lugar. Fijate en las siguientes ilustraciones y escribe las recomendaciones que darías a los visitantes del Parque.

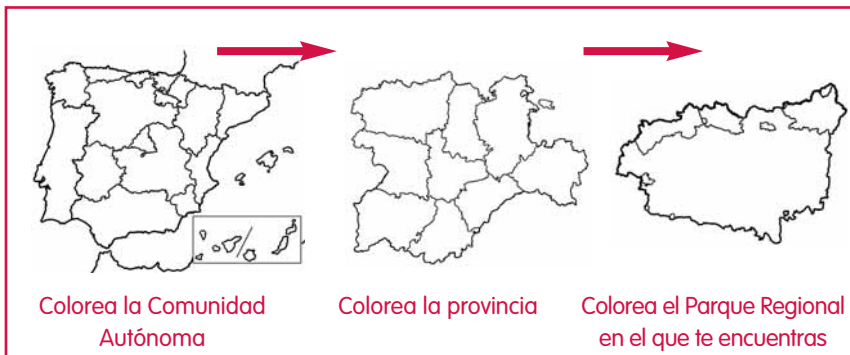
.....

.....

.....



¿Sabes dónde estamos?



En la Casa del Parque puedes informarte de todo lo que necesitas para realizar tu visita. Puedes llegar desde Boñar, tomando la carretera LE-332 hasta Puebla de Lillo.

Recuerda que también puedes visitar la Casa del Parque de Lario, en el sector oriental de Picos de Europa.

CASA DEL PARQUE DE PICOS DE EUROPA
(SECTOR OCCIDENTAL)
"EL TORREÓN DE PUEBLA DE LILLO"
C/ La Torre, 2
24855 - Puebla de Lillo. LEÓN
Teléfono: 987 731 091

