


parque regional

Picos de Europa
en Castilla y León
(León)2º y 3º Ciclo
de Educación
Primariared de
Espacios
Naturales
de Castilla y LeónJunta de
Castilla y León

Programa de visitas escolares a Espacios Naturales

Casa del Parque de Picos de Europa (sector oriental) "Valdeburón"

GUÍA DEL EXPLORADOR



¡Hola amigo!

¡Bienvenido a esta Casa del Parque Regional de Picos de Europa!

Estás en una de las zonas montañosas más espectaculares de la Cordillera Cantábrica, entre Asturias, Cantabria y la provincia de Palencia.

¿Quieres hacer un recorrido por este Parque?



Descubre las características principales del relieve y el clima de Picos de Europa. Sustituye los dibujos por palabras.

El relieve del Parque se caracteriza por la presencia

de



y valles, más o menos

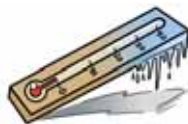
profundos, que se han formado por la acción del agua

y el



a lo largo de miles de años.

El clima actual de la zona se caracteriza por inviernos



, veranos suaves y

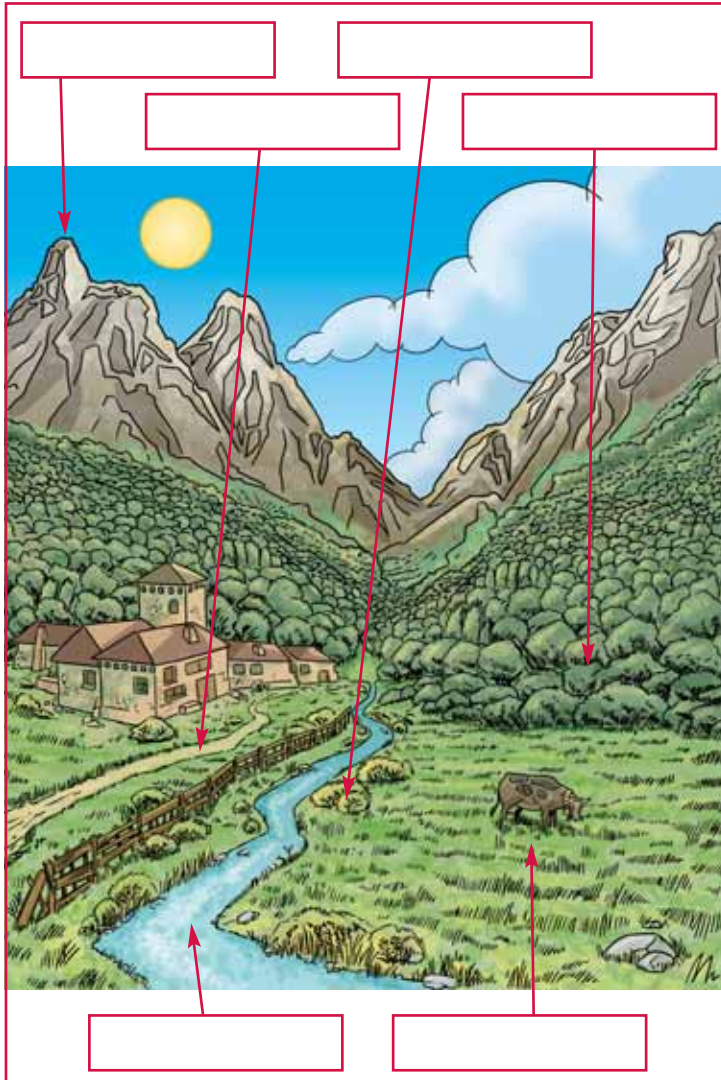


durante todo el año.



En el Parque Regional de los Picos de Europa podemos distinguir una vegetación que varía según el lugar en el que nos encontremos.

Hay prados y bosques de ribera en los valles, bosques de media montaña en las laderas, y pastizales y matorrales en la alta montaña. En la roca desnuda también podemos observar una vegetación adaptada a ella.



02 

Escribe en los cuadros los siguientes elementos:

- montaña - valle
- río - bosque - prado
- matorrales.

Después, rodea los elementos que son de origen humano.

¿Sabías que...?

La erosión que ejercen algunos de los ríos de la zona sobre la roca han formado profundas gargantas y desfiladeros entre las montañas.



 03

Relaciona cada hoja con el árbol al que pertenece y atrévete a dibujar el fruto de cada árbol en el cuadro correspondiente.



Haya



Roble

¿Sabías que...?

Antiguamente se prensaban los hayucos para obtener un aceite que se empleaba para guisar y elaborar jabón.

Explica las diferencias que hay entre los dos árboles:

.....

.....

.....

.....

 04

¿Verdadero o falso?







- Los frutos del majuelo son unas pequeñas bolitas de color morado. F V
- La mayoría de los bosques del Parque están formados por especies de hoja caduca. F V
- El fruto del acebo sirve de alimento a muchos animales del bosque, como el urogallo. F V
- El roble es un árbol típico de la zona de alta montaña. F V
- Cerca de los ríos abundan los sauces y los chopos. F V






Dentro de este Parque Regional existe una gran riqueza faunística adaptada a los diferentes ambientes que en él podemos encontrar.

Hay animales, como el oso o el urogallo, que son muy difíciles de ver, pero podemos adivinar su presencia mediante la observación de sus huellas y excrementos.

	Altas cumbres	
	Bosque	
	Arroyo	
	Pasto	


05 

Une mediante flechas cada animal con el lugar donde vive.

¿Sabías que...?

Los hayucos forman parte de la dieta del oso pardo, urogallo, carbonero común y algunos roedores.

		
<input type="text"/>	<input type="text"/>	<input type="text"/>
.....		
.....		
.....		

06 

Escribe en las casillas que hay debajo de cada huella el nombre del animal al que corresponde. ¿Por qué crees que son diferentes? Escribe tu respuesta en la línea de puntos.



Estos valles han estado poblados desde hace cientos de años, y sus recursos naturales se han aprovechado de forma equilibrada: la madera de los bosques, los prados de los valles y las rocas de las montañas.

Aún podemos encontrar elementos que nos recuerdan el modo de vida, el tipo de construcciones que hacían y las clases de materiales y herramientas que se utilizaban.



Fíjate en la siguiente construcción y contesta a estas preguntas.



¿Cómo se llama este tipo de edificación?

¿Por qué está levantada del suelo?

¿Para qué se usaba?

¿De qué materiales está construida?



¿Sabes para qué sirven las madreñas? Prueba a dibujar unas en el recuadro.

Las madreñas sirven para:



Las personas han sabido aprovechar los recursos que ofrece la naturaleza sin perjudicarla. Es necesario continuar

compaginando las actividades económicas con la conservación y el equilibrio ecológico de este espacio.



--	--	--

.....

.....

.....

.....

.....

09 

Fíjate en los dibujos y escribe el nombre de estos animales. Cada vez es más difícil verlos en los ríos. ¿Por qué crees que ocurre esto? Escribe tu razonamiento en las líneas de puntos.

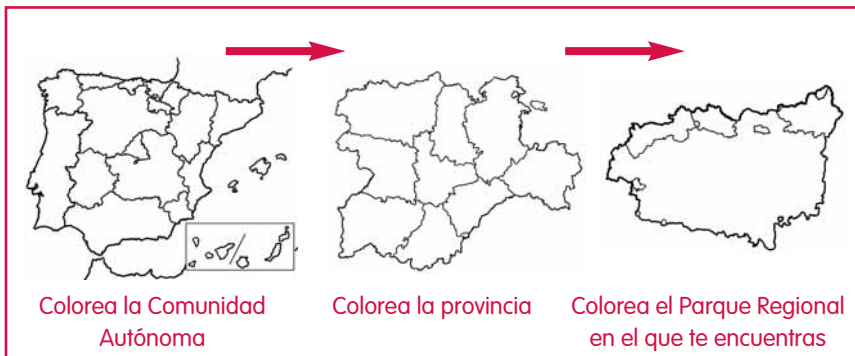


10 

Ahora ya sabes lo importante que es cuidar este espacio. Fíjate en los ejemplos y tacha aquellas acciones que debes evitar para conservar este lugar.



¿Sabes dónde estamos?



En la Casa del Parque puedes informarte de todo lo que necesitas para realizar tu visita. Puedes llegar desde Riaño, tomando la carretera C-635 hasta Lario.

Recuerda que también puedes visitar la Casa del Parque situada en el Torreón de Puebla de Lillo, en el sector occidental de Picos de Europa.

CASA DEL PARQUE DE PICOS DE EUROPA
(SECTOR ORIENTAL)
"VALDEBURÓN"
Carretera Polvaredo, s/n
24995 - Lario. LEÓN
Teléfono: 987 74 22 15

