
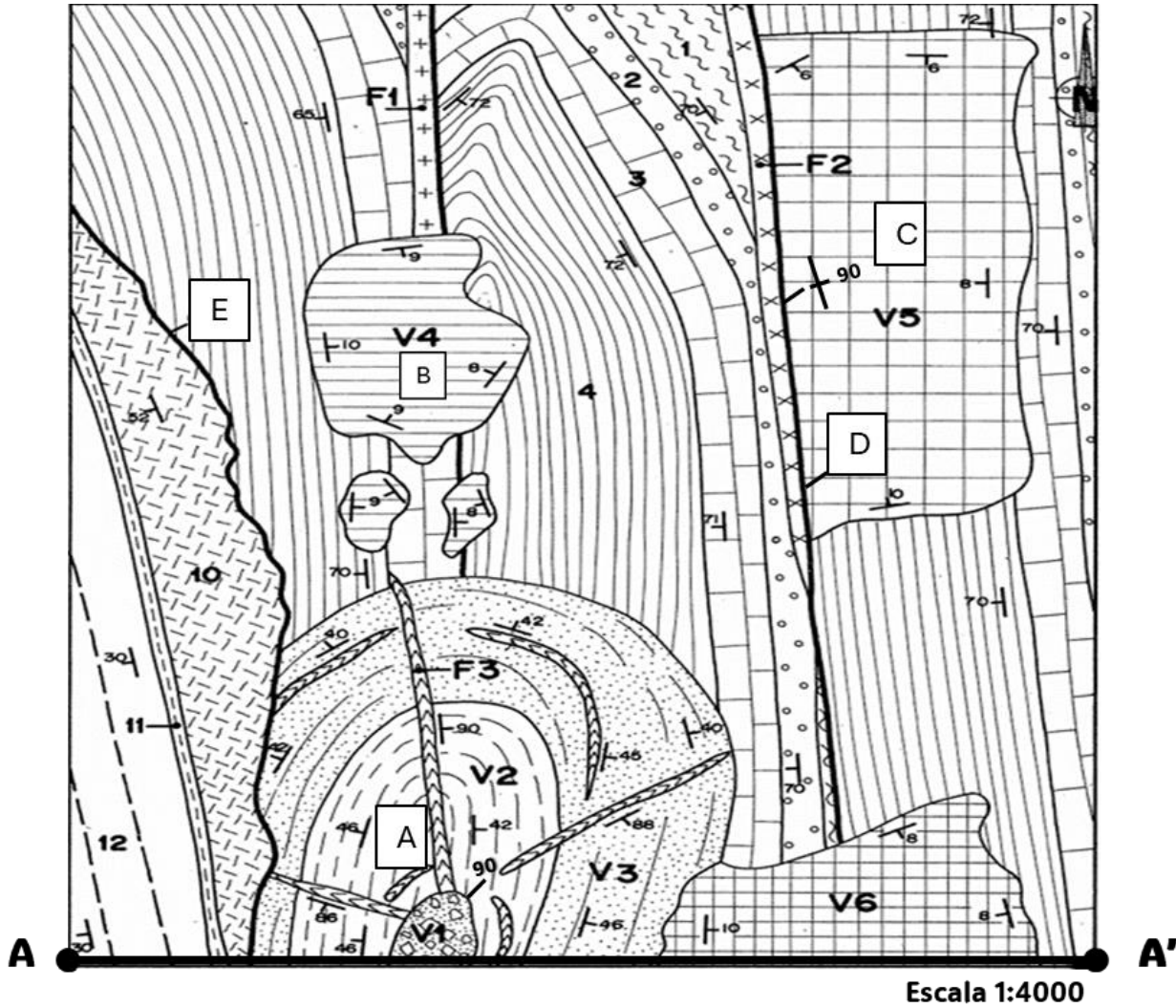





CUERPO:	PROFESORES DE ENSEÑANZA SECUNDARIA
ESPECIALIDAD:	BIOLOGÍA Y GEOLOGÍA
PRUEBA:	PARTE 1: PRÁCTICO
TURNO:	1 y 2

- Realiza el corte geológico A-A' en el siguiente mapa geológico, utilizando el perfil topográfico situado debajo.
- Identifica los elementos tectónicos, discordancias y estructuras que aparecen representadas con las letras A, B, C, D y E. Los materiales están numerados en orden cronoestratigráfico.



Leyenda

Rocas ígneas filonianas:

 F1 Riolita  F2 Dolerita  F3 Pórfido

Rocas ígneas volcanosedimentarias

 V1 Brecha piroclástica  V2 Tefra  V3 Lapillita  V4 Tobas gruesas  V5 Tobas Finas  V6 Cenizas volcánicas

Rocas sedimentarias:

 1 Margas  2 Areniscas  3 Calizas  4 Pizarras  10 Lutitas  11 Limos y arcillas  12 Arenas y limos