

Orden EDU/1866/2022, de 19 de diciembre (BOCyL de 22 de diciembre)

JUNTA DE CASTILLA Y LEÓN
CONSEJERÍA DE EDUCACIÓN
CUERPO 0590
TRIBUNAL N° 2
HOSTELERÍA Y TURISMO
PALENCIA - 2023

CUERPO:	590 PROFESORES DE ENSEÑANZA SECUNDARIA
ESPECIALIDAD:	HOSTELERÍA Y TURISMO
PRUEBA:	B.2 EJERCICIO PRÁCTICO
TURNO:	1 Y 2

SUPUESTO 1

La empresa “**Opopalen**” con motivo de la inauguración de una nueva planta, celebra en el Auditorio Ciudad de Palencia un acto al que invita a diversas Autoridades y a representantes de sus filiales, con la siguiente distribución:

- En el escenario se monta:
 - a) Mesa presidencial rectangular para 8 pax (Presidencia y 7 invitados).
 - b) Hilera de las banderas de: España, Almería (199.237 habitantes), Palencia (78.629 habitantes), Diputación de Palencia, Castilla y León (Estatuto Autonomía 25 febrero 1983), Suecia (Presidencia semestre Consejo UE) , Portugal, Francia, Oviedo (215.167 habitantes), Cataluña (Estatuto Autonomía 18/10/1979), Principado de Asturias (Estatuto de Autonomía 30/12/81), Barcelona (1.656.725 habitantes), Badalona (223.000 habitantes), Gijón (272.013 habitantes), Villamuriel de Cerrato (6503habitantes) y la de la empresa
- El patio de butacas está dividido por dos pasillos. En cada fila hay cabida para 20 invitados, 10 en la parte central y 5 en cada uno de los laterales. Se invita a 60 personas

Previo al acto en el salón “Azul” se celebrará una reunión para la firma de un Acuerdo de Colaboración. En este salón se va a montar una mesa Imperial para 12 personas (10 invitados y 2 presidencias) por el Sistema Inglés cartesiano. Y se colocaran las banderas de España, Palencia, Castilla y León y la de la empresa.


1. Realizar el croquis de colocación del Auditorio, numerando:
 - * las banderas
 - * la presidencia
 - * los invitados
2. ¿Cómo se denomina este tipo de montaje?
3. ¿Cómo se denomina la disciplina encargada del estudio de las banderas, pendones y estandartes bajo todos sus aspectos? y ¿la persona especialista?
4. Realizar el croquis de colocación del Salón Azul, numerando:

Orden EDU/1866/2022, de 19 de diciembre (BOCyL de 22 de diciembre)


- * las banderas
- * las presidencias
- * los invitados

1. Realizar el croquis de colocación del Auditorio, numerando:

- * las banderas
- * la presidencia
- * los invitados



Orden banderas:



2. ¿Cómo se denomina este tipo de montaje?

3. ¿Cómo se denomina la disciplina encargada del estudio de las banderas, pendones y estandartes bajo todos sus aspectos?


y ¿la persona especialista?

4. Realizar el croquis de colocación del Salón Azul, numerando:


- * las banderas
- * las presidencias
- * los invitados

PROCEDIMIENTO SELECTIVO DE INGRESO PARA LA ESTABILIZACIÓN DE EMPLEO
TEMPORAL EN LOS CUERPOS DE PROFESORES DE ENSEÑANZA SECUNDARIA,
PROFESORES ESPECIALISTAS EN SECTORES SINGULARES DE FORMACIÓN
PROFESIONAL, PROFESORES DE ESCUELAS OFICIALES DE IDIOMAS, PROFESORES
DE MÚSICA Y ARTES ESCÉNICAS, PROFESORES DE ARTES PLÁSTICAS Y DISEÑO Y
MAESTROS DE TALLER DE ARTES PLÁSTICAS Y DISEÑO

Orden EDU/1866/2022, de 19 de diciembre (BOCyL de 22 de diciembre)



Orden banderas (numerar las banderas según su orden protocolario y especificar que bandera es cada una ej. 1. Madrid, 2. Valladolid....)



SUPUESTO 2

Completa la siguiente tabla teniendo en cuenta los datos que se aportan. Realiza un redondeo al segundo decimal.

Ten en cuenta que los datos corresponden al mes de agosto de 2022.

La capacidad de todas las habitaciones es de dos personas como máximo.

Las habitaciones se han vendido bajo una tarifa determinada y, además los huéspedes han realizado otros consumos vinculados a su estancia (otros ingresos) Se sabe que los gastos brutos operativos son de un 35% por habitación.

TIPO DE HABITACIÓN	Habitaciones de hotel	Habitaciones disponibles	Habitaciones ocupadas	% de ocupación	Ingresos habitaciones	Otros ingresos	Total ingresos	ADR	RevPAR	TrevPAR	I.F.	Pernoctaciones	Plazas disponibles
DOBLE ESTÁNDAR	500			64,52%		5.235	1.357.249	100				11.052	31.000
DOBLE SUPERIOR				97,04%	1.353.750		1.357.249			145,94	1,11		18.600
DOBLE CON VISTA MAR		9.300	8.500	91,40%		3.500		200	182,80			10.300	
DOBLE CON BALCÓN							2.693.222						21.700
TOTALES			38.275		6.741.250	17.956			149,97	150,37		42.769	

SUPUESTO 3

Indique la denominación de la *costa española* y la *provincia* en la que se encuentran las siguientes localidades turísticas:

LOCALIDAD	COSTA	PROVINCIA
1. TORREDEMBARRA		
2. SALOBREÑA		
3. MAZAGÓN		
4. ARENYS DE MAR		
5. CASTROPOL		
6. ROQUETAS DE MAR		
7. SITGES		
8. BURRIANA		
9. NOYA		
10. ALFAZ DEL PI		

Indique la provincia en la que se encuentran los siguientes *Bienes de interés cultural*:

BIENES DE INTERÉS CULTURAL	PROVINCIA
1. CASTILLO BURGALIMAR	
2. CANCHO ROANO	
3. BAELO CLAUDIA	
4. ACUEDUCTO DE LES FERRERES	
5. CASTRO DE SANTA TECLA	
6. CIUDAD IBÉRICA DE ULLASTRET	
7. ERMITA DEL CRISTO DE LA LUZ	
8. CASTILLO ALMODÓVAR DEL RÍO	
9. CASA DE PILATOS	
10. ACUEDUCTO DE LOS ARCOS	

Indique la categoría de los siguientes *espacios naturales protegidos* de la Red de Espacios Naturales Protegidos (REN) de Castilla y León:

ESPACIO NATURAL PROTEGIDO	CATEGORÍA
1. LAGO DE LA BAÑA	
2. RIBERAS DE CASTRONUÑO-VEGA DEL DUERO	
3. HOCES DEL RÍO RIAZA	
4. OJO GUAREÑA	
5. SIERRA DE GUADARRAMA	
6. SIERRA DE GREDOS	
7. ACEBAL DE GARAGÜETA	
8. LAS TUERCES	
9. MONTAÑA DE RIAÑO Y MAMPODRE	
10. MONTE SANTIAGO	

Indique la provincia en la que se encuentran los siguientes *pueblos medievales* españoles:

PUEBLOS MEDIEVALES	PROVINCIA
1. MONTEFRÍO	
2. AÍNSA	
3. OLVERA	
4. ALQUÉZAR	
5. SOS DEL REY CATÓLICO	
6. LAGUARDIA	
7. NIEBLA	
8. ALARCÓN	
9. BESALÚ	
10. GRANADILLA	

Indique el país en el que se encuentran los siguientes *destinos turísticos* declarados como *Patrimonio de la Humanidad* por la UNESCO:

PATRIMONIO DE LA HUMANIDAD UNESCO	PAÍS
1. PARQUE NACIONAL DE YOSEMITE	
2. CIUDAD VIEJA DE CORFÚ	
3. ZONA PROTEGIDA DEL UADI RUM	
4. PARQUE NACIONAL LAGO TURKANA	
5. SITIO ARQUEOLÓGICO DE LEPTIS MAGNA	
6. TOMBUCTÚ	
7. PARQUE NACIONAL DE ULURU-KATA TJUTA	
8. ANGKOR	
9. BUTRINTO	
10. SITIO MAYA DE COPÁN	

SUPUESTO 4

Complete el cuadro según corresponda con el código IATA o el nombre del aeropuerto.

Aeropuerto Internacional Hartsfield-Jackson de Atlanta	
Aeropuerto Internacional de Malta	
Aeropuerto de Estocolmo-Arlanda	
Aeropuerto Internacional Madre Teresa de Tirana	
Aeropuerto Internacional de Glasgow	
Aeropuerto Internacional Galeao de Rio de Janeiro	
Aeropuerto Internacional Marrakech-Menara	
Aeropuerto Internacional de Bucarest- Henri Coandă	
Aeropuerto Internacional de Shanghai-Pudong	
Aeropuerto Internacional de Múnich-Franz Josef Strauss	
	HKG
	BGO
	DXB
	ANC
	IST
	YYZ
	GYE
	ADD
	PDX
	TXL

SUPUESTO 5

EJERCICIO TIPO TEST tiene un valor total de 2 puntos, se compone de 20 preguntas, con un valor cada pregunta de 0.1. Los errores restan. Valor de las respuestas erróneas 0.05.

Indica qué opción es correcta. Sólo una opción válida. COMPLETE EN EL CUADRO AL FINAL.

1. **Las Reservas de la Biosfera son declaradas por:**
 - a. La UNESCO
 - b. La ONU
 - c. La UE
 - d. EUROPARC
2. **En la Comunidad Autónoma de Castilla y León se encuentran:**
 - a. 4 Parques Nacionales
 - b. 5 Parques Nacionales
 - c. 2 Parques Nacionales
 - d. Ninguno
3. **Son ciudades Patrimonio de la Humanidad (opción en la que todas sean correctas):**
 - a. Mérida, Tarragona y Baeza
 - b. Córdoba, Sevilla y Toledo
 - c. Ávila, Cáceres y Barcelona
 - d. Granada, Salamanca y Santiago de Compostela
4. **Las Vías Verdes son:**
 - a. Senderos por zonas verdes señalizados para caminantes
 - b. Antiguas líneas de ferrocarril recuperadas para caminantes y ciclistas
 - c. Senderos en entornos naturales adaptados para caminantes y ciclistas
 - d. Antiguos senderos de la trashumancia recuperados para caminantes y ciclistas
5. **El poblado celtíbero más importante de España se encuentra en:**
 - a. Numancia
 - b. Ampurias
 - c. Saldaña
 - d. Segóbriga
6. **Cuál es la Vía que une la zona levantina con Roma:**
 - a. La Vía Lusitanorum
 - b. La Vía de la Plata
 - c. La Vía Augusta
 - d. Respuestas a y b correctas
7. **Si deseo visitar la Iglesia de Santa María de Tahull voy a:**
 - a. Barcelona
 - b. Gerona
 - c. Tarragona
 - d. Lérida
8. **El estilo del Cister se caracteriza por ser un estilo:**
 - a. De transición entre el románico y el gótico que se desarrolla predominantemente en zonas rurales

- b. De transición entre el románico y el gótico que se desarrolla predominantemente en las ciudades
 - c. De gran complejidad ornamental
 - d. De transición entre el gótico y el renacimiento que se desarrolla predominantemente en zonas rurales
9. **A qué periodo artístico pertenece Alonso Berruguete:**
- a. Renacimiento
 - b. Gótico
 - c. Barroco
 - d. Romanticismo
10. **El Lechazo de Castilla y León es una:**
- a. D.O.
 - b. I.G.P.
 - c. D.O.P.
 - d. E.T.G.
11. **El Vino de Arlanza es:**
- a. Una D.O. de Burgos
 - b. Una D.O. de Burgos y Valladolid
 - c. Una D.O. de Palencia
 - d. Una D.O. de Burgos y Palencia
12. **Los alojamientos rurales de Castilla y León se clasifican en:**
- a. Hotel Rural, Casa Rural y Posada de una a cinco estrellas
 - b. Casa Rural y Posada de una a cinco estrellas
 - c. Hotel Rural y Posadas de una a cinco estrellas y Casa Rural
 - d. Posada, Casa Rural y Centro de turismo Rural
13. **Mazarrón se encuentra en:**
- a. Costa de Almería
 - b. Costa Blanca
 - c. Costa Cálida
 - d. Costa Tropical
14. **El Monumento Natural Playa de Gulpiyuri se encuentra en:**
- a. País Vasco
 - a. Asturias
 - b. Cantabria
 - c. Galicia
15. **La Red de Senderos Azules es una iniciativa de:**
- a. El Ministerio de Agricultura, Alimentación y Medio Ambiente
 - a. La Asociación de Educación Ambiental y del Consumidor (ADEAC)
 - b. La Fundación Europea de Educación Ambiental (FEEE)
 - c. la Agencia Europea de Medio Ambiente (EEA) de la UE
16. **El Festival de Cine Internacional se celebra en:**
- a. Sitges
 - b. Orense
 - c. Respuesta a y b son correctas
 - d. Madrid

17. **La estación de esquí de La Molina se encuentra en:**
- Pirineo de Huesca
 - Pirineo Navarro
 - Cordillera Cantábrica
 - Pirineo de Girona
18. **El Lago Constanza es limítrofe con:**
- Suiza y Austria
 - Suiza, Austria y Alemania
 - Austria y Alemania
 - Suiza, Austria e Italia
19. **Kenia y Tanzania comparten el Parque Nacional de:**
- Parque Nacional de Kilimanjaro
 - Parque Nacional de la Sabana de Serengueti
 - Parque Natural de Amboseli
 - Ninguno de los anteriores
20. **El escorzo es:**
- Un método de sombreado y mezcla de colores que evoca una bruma suave.
 - Una técnica de utilización de capas gruesas de pintura usadas para crear textura.
 - Una técnica donde el artista distorsiona la perspectiva para crear la ilusión de profundidad. Con el escorzo, las figuras parecen avanzar en el plano de la imagen.
 - Una técnica que se utiliza para dar la sensación de profundidad

RESPONDE LA OPCIÓN CORRECTA A / B / C / D. SOLO HAY UNA OPCIÓN VÁLIDA. ESCRIBIR LA RESPUESTA EN MAYÚSCULAS. No se contabilizarán las minúsculas.

1	2	3	4	5	6	7	8	9	10	11	12
13	14	15	16	17	18	19	20				

